



Théo a 8 billes dans sa poche.
Son frère Mathis a 6 billes dans sa poche.
Combien de billes Théo a-t-il de plus que Mathis dans sa poche ?

Théo a 8 billes dans sa poche.
Son frère Mathis a 6 billes dans sa poche.
Combien de billes Théo a-t-il de plus que Mathis dans sa poche ?

Théo a 8 billes dans sa poche.
Son frère Mathis a 6 billes dans sa poche.
Combien de billes Théo a-t-il de plus que Mathis dans sa poche ?

Théo a 8 billes dans sa poche.
Son frère Mathis a 6 billes dans sa poche.
Combien de billes Théo a-t-il de plus que Mathis dans sa poche ?

Théo a 8 billes dans sa poche.
Son frère Mathis a 6 billes dans sa poche.
Combien de billes Théo a-t-il de plus que Mathis dans sa poche ?

Théo a 8 billes dans sa poche.
Son frère Mathis a 6 billes dans sa poche.
Combien de billes Théo a-t-il de plus que Mathis dans sa poche ?

Théo a 8 billes dans sa poche.
Son frère Mathis a 6 billes dans sa poche.
Combien de billes Théo a-t-il de plus que Mathis dans sa poche ?

Théo a 8 billes dans sa poche.
Son frère Mathis a 6 billes dans sa poche.
Combien de billes Théo a-t-il de plus que Mathis dans sa poche ?

Théo a 8 billes dans sa poche.
Son frère Mathis a 6 billes dans sa poche.
Combien de billes Théo a-t-il de plus que Mathis dans sa poche ?

Théo a 8 billes dans sa poche.
Son frère Mathis a 6 billes dans sa poche.
Combien de billes Théo a-t-il de plus que Mathis dans sa poche ?

Théo a 8 billes dans sa poche.
Son frère Mathis a 6 billes dans sa poche.
Combien de billes Théo a-t-il de plus que Mathis dans sa poche ?

Théo a 8 billes dans sa poche.
Son frère Mathis a 6 billes dans sa poche.
Combien de billes Théo a-t-il de plus que Mathis dans sa poche ?



Elia a 6 billes dans sa poche.
Son frère Yanis a 4 billes dans sa poche.
Combien de billes Elia a-t-elle de plus dans sa poche ?

Elia a 6 billes dans sa poche.
Son frère Yanis a 4 billes dans sa poche.
Combien de billes Elia a-t-elle de plus dans sa poche ?

Elia a 6 billes dans sa poche.
Son frère Yanis a 4 billes dans sa poche.
Combien de billes Elia a-t-elle de plus dans sa poche ?

Elia a 6 billes dans sa poche.
Son frère Yanis a 4 billes dans sa poche.
Combien de billes Elia a-t-elle de plus dans sa poche ?

Elia a 6 billes dans sa poche.
Son frère Yanis a 4 billes dans sa poche.
Combien de billes Elia a-t-elle de plus dans sa poche ?

Elia a 6 billes dans sa poche.
Son frère Yanis a 4 billes dans sa poche.
Combien de billes Elia a-t-elle de plus dans sa poche ?

Elia a 6 billes dans sa poche.
Son frère Yanis a 4 billes dans sa poche.
Combien de billes Elia a-t-elle de plus dans sa poche ?

Elia a 6 billes dans sa poche.
Son frère Yanis a 4 billes dans sa poche.
Combien de billes Elia a-t-elle de plus dans sa poche ?

Elia a 6 billes dans sa poche.
Son frère Yanis a 4 billes dans sa poche.
Combien de billes Elia a-t-elle de plus dans sa poche ?

Elia a 6 billes dans sa poche.
Son frère Yanis a 4 billes dans sa poche.
Combien de billes Elia a-t-elle de plus dans sa poche ?

Elia a 6 billes dans sa poche.
Son frère Yanis a 4 billes dans sa poche.
Combien de billes Elia a-t-elle de plus dans sa poche ?

Elia a 6 billes dans sa poche.
Son frère Yanis a 4 billes dans sa poche.
Combien de billes Elia a-t-elle de plus dans sa poche ?



Leïla et Youri font chacun une tour. Leïla construit une tour de 7 cubes, Youri en fait une de 5 cubes.
Combien de cubes faut-il encore à Youri pour avoir une tour aussi haute que celle de Leïla ?

Leïla et Youri font chacun une tour. Leïla construit une tour de 7 cubes, Youri en fait une de 5 cubes.
Combien de cubes faut-il encore à Youri pour avoir une tour aussi haute que celle de Leïla ?

Leïla et Youri font chacun une tour. Leïla construit une tour de 7 cubes, Youri en fait une de 5 cubes.
Combien de cubes faut-il encore à Youri pour avoir une tour aussi haute que celle de Leïla ?

Leïla et Youri font chacun une tour. Leïla construit une tour de 7 cubes, Youri en fait une de 5 cubes.
Combien de cubes faut-il encore à Youri pour avoir une tour aussi haute que celle de Leïla ?

Leïla et Youri font chacun une tour. Leïla construit une tour de 7 cubes, Youri en fait une de 5 cubes.
Combien de cubes faut-il encore à Youri pour avoir une tour aussi haute que celle de Leïla ?

Leïla et Youri font chacun une tour. Leïla construit une tour de 7 cubes, Youri en fait une de 5 cubes.
Combien de cubes faut-il encore à Youri pour avoir une tour aussi haute que celle de Leïla ?

Leïla et Youri font chacun une tour. Leïla construit une tour de 7 cubes, Youri en fait une de 5 cubes.
Combien de cubes faut-il encore à Youri pour avoir une tour aussi haute que celle de Leïla ?

Leïla et Youri font chacun une tour. Leïla construit une tour de 7 cubes, Youri en fait une de 5 cubes.
Combien de cubes faut-il encore à Youri pour avoir une tour aussi haute que celle de Leïla ?

Leïla et Youri font chacun une tour. Leïla construit une tour de 7 cubes, Youri en fait une de 5 cubes.
Combien de cubes faut-il encore à Youri pour avoir une tour aussi haute que celle de Leïla ?

Leïla et Youri font chacun une tour. Leïla construit une tour de 7 cubes, Youri en fait une de 5 cubes.
Combien de cubes faut-il encore à Youri pour avoir une tour aussi haute que celle de Leïla ?

Leïla et Youri font chacun une tour. Leïla construit une tour de 7 cubes, Youri en fait une de 5 cubes.
Combien de cubes faut-il encore à Youri pour avoir une tour aussi haute que celle de Leïla ?

Leïla et Youri font chacun une tour. Leïla construit une tour de 7 cubes, Youri en fait une de 5 cubes.
Combien de cubes faut-il encore à Youri pour avoir une tour aussi haute que celle de Leïla ?



Leila und Yuri bauen zwei Türme. Leila baut einen Turm mit 7 Bausteine. Youri baut einen Turm mit 5 Bausteine. Youri möchte, dass sein Turm so hoch wie der von Leila ist. Wie viele Bausteine braucht Youri noch, um seinen Turm fertig zu bauen?

Leila und Yuri bauen zwei Türme. Leila baut einen Turm mit 7 Bausteine. Youri baut einen Turm mit 5 Bausteine. Youri möchte, dass sein Turm so hoch wie der von Leila ist. Wie viele Bausteine braucht Youri noch, um seinen Turm fertig zu bauen?

Leila und Yuri bauen zwei Türme. Leila baut einen Turm mit 7 Bausteine. Youri baut einen Turm mit 5 Bausteine. Youri möchte, dass sein Turm so hoch wie der von Leila ist. Wie viele Bausteine braucht Youri noch, um seinen Turm fertig zu bauen?

Leila und Yuri bauen zwei Türme. Leila baut einen Turm mit 7 Bausteine. Youri baut einen Turm mit 5 Bausteine. Youri möchte, dass sein Turm so hoch wie der von Leila ist. Wie viele Bausteine braucht Youri noch, um seinen Turm fertig zu bauen?

Leila und Yuri bauen zwei Türme. Leila baut einen Turm mit 7 Bausteine. Youri baut einen Turm mit 5 Bausteine. Youri möchte, dass sein Turm so hoch wie der von Leila ist. Wie viele Bausteine braucht Youri noch, um seinen Turm fertig zu bauen?

Leila und Yuri bauen zwei Türme. Leila baut einen Turm mit 7 Bausteine. Youri baut einen Turm mit 5 Bausteine. Youri möchte, dass sein Turm so hoch wie der von Leila ist. Wie viele Bausteine braucht Youri noch, um seinen Turm fertig zu bauen?

Leila und Yuri bauen zwei Türme. Leila baut einen Turm mit 7 Bausteine. Youri baut einen Turm mit 5 Bausteine. Youri möchte, dass sein Turm so hoch wie der von Leila ist. Wie viele Bausteine braucht Youri noch, um seinen Turm fertig zu bauen?

Leila und Yuri bauen zwei Türme. Leila baut einen Turm mit 7 Bausteine. Youri baut einen Turm mit 5 Bausteine. Youri möchte, dass sein Turm so hoch wie der von Leila ist. Wie viele Bausteine braucht Youri noch, um seinen Turm fertig zu bauen?



Léo et Louise font chacun une tour. Léo construit une tour de 4 cubes, Louise en fait une de 8 cubes.
Combien de cubes faut-il encore à Léo pour avoir une tour aussi haute que celle de Louise ?

Léo et Louise font chacun une tour. Léo construit une tour de 4 cubes, Louise en fait une de 8 cubes.
Combien de cubes faut-il encore à Léo pour avoir une tour aussi haute que celle de Louise ?

Léo et Louise font chacun une tour. Léo construit une tour de 4 cubes, Louise en fait une de 8 cubes.
Combien de cubes faut-il encore à Léo pour avoir une tour aussi haute que celle de Louise ?

Léo et Louise font chacun une tour. Léo construit une tour de 4 cubes, Louise en fait une de 8 cubes.
Combien de cubes faut-il encore à Léo pour avoir une tour aussi haute que celle de Louise ?

Léo et Louise font chacun une tour. Léo construit une tour de 4 cubes, Louise en fait une de 8 cubes.
Combien de cubes faut-il encore à Léo pour avoir une tour aussi haute que celle de Louise ?

Léo et Louise font chacun une tour. Léo construit une tour de 4 cubes, Louise en fait une de 8 cubes.
Combien de cubes faut-il encore à Léo pour avoir une tour aussi haute que celle de Louise ?

Léo et Louise font chacun une tour. Léo construit une tour de 4 cubes, Louise en fait une de 8 cubes.
Combien de cubes faut-il encore à Léo pour avoir une tour aussi haute que celle de Louise ?

Léo et Louise font chacun une tour. Léo construit une tour de 4 cubes, Louise en fait une de 8 cubes.
Combien de cubes faut-il encore à Léo pour avoir une tour aussi haute que celle de Louise ?

Léo et Louise font chacun une tour. Léo construit une tour de 4 cubes, Louise en fait une de 8 cubes.
Combien de cubes faut-il encore à Léo pour avoir une tour aussi haute que celle de Louise ?

Léo et Louise font chacun une tour. Léo construit une tour de 4 cubes, Louise en fait une de 8 cubes.
Combien de cubes faut-il encore à Léo pour avoir une tour aussi haute que celle de Louise ?

Léo et Louise font chacun une tour. Léo construit une tour de 4 cubes, Louise en fait une de 8 cubes.
Combien de cubes faut-il encore à Léo pour avoir une tour aussi haute que celle de Louise ?

Léo et Louise font chacun une tour. Léo construit une tour de 4 cubes, Louise en fait une de 8 cubes.
Combien de cubes faut-il encore à Léo pour avoir une tour aussi haute que celle de Louise ?



Leo und Louise bauen zwei Türme.
Leo baut einen Turm mit 4 Bausteine.
Louise baut einen Turm mit 8 Bausteine.
Leo möchte, dass sein Turm so hoch wie der von Louise ist.
Wie viele Bausteine braucht Leo noch um seinen Turm fertig zu bauen?

Leo und Louise bauen zwei Türme.
Leo baut einen Turm mit 4 Bausteine.
Louise baut einen Turm mit 8 Bausteine.
Leo möchte, dass sein Turm so hoch wie der von Louise ist.
Wie viele Bausteine braucht Leo noch um seinen Turm fertig zu bauen?

Leo und Louise bauen zwei Türme.
Leo baut einen Turm mit 4 Bausteine.
Louise baut einen Turm mit 8 Bausteine.
Leo möchte, dass sein Turm so hoch wie der von Louise ist.
Wie viele Bausteine braucht Leo noch um seinen Turm fertig zu bauen?

Leo und Louise bauen zwei Türme.
Leo baut einen Turm mit 4 Bausteine.
Louise baut einen Turm mit 8 Bausteine.
Leo möchte, dass sein Turm so hoch wie der von Louise ist.
Wie viele Bausteine braucht Leo noch um seinen Turm fertig zu bauen?

Leo und Louise bauen zwei Türme.
Leo baut einen Turm mit 4 Bausteine.
Louise baut einen Turm mit 8 Bausteine.
Leo möchte, dass sein Turm so hoch wie der von Louise ist.
Wie viele Bausteine braucht Leo noch um seinen Turm fertig zu bauen?

Leo und Louise bauen zwei Türme.
Leo baut einen Turm mit 4 Bausteine.
Louise baut einen Turm mit 8 Bausteine.
Leo möchte, dass sein Turm so hoch wie der von Louise ist.
Wie viele Bausteine braucht Leo noch um seinen Turm fertig zu bauen?

Leo und Louise bauen zwei Türme.
Leo baut einen Turm mit 4 Bausteine.
Louise baut einen Turm mit 8 Bausteine.
Leo möchte, dass sein Turm so hoch wie der von Louise ist.
Wie viele Bausteine braucht Leo noch um seinen Turm fertig zu bauen?

Leo und Louise bauen zwei Türme.
Leo baut einen Turm mit 4 Bausteine.
Louise baut einen Turm mit 8 Bausteine.
Leo möchte, dass sein Turm so hoch wie der von Louise ist.
Wie viele Bausteine braucht Leo noch um seinen Turm fertig zu bauen?



Iram a 7 bonbons dans sa poche. Tom a 2 bonbons dans sa poche. Combien de bonbons Iram a-t-il de plus que Tom dans sa poche ?

Iram a 7 bonbons dans sa poche. Tom a 2 bonbons dans sa poche. Combien de bonbons Iram a-t-il de plus que Tom dans sa poche ?

Iram a 7 bonbons dans sa poche. Tom a 2 bonbons dans sa poche. Combien de bonbons Iram a-t-il de plus que Tom dans sa poche ?

Iram a 7 bonbons dans sa poche. Tom a 2 bonbons dans sa poche. Combien de bonbons Iram a-t-il de plus que Tom dans sa poche ?

Iram a 7 bonbons dans sa poche. Tom a 2 bonbons dans sa poche. Combien de bonbons Iram a-t-il de plus que Tom dans sa poche ?

Iram a 7 bonbons dans sa poche. Tom a 2 bonbons dans sa poche. Combien de bonbons Iram a-t-il de plus que Tom dans sa poche ?

Iram a 7 bonbons dans sa poche. Tom a 2 bonbons dans sa poche. Combien de bonbons Iram a-t-il de plus que Tom dans sa poche ?

Iram a 7 bonbons dans sa poche. Tom a 2 bonbons dans sa poche. Combien de bonbons Iram a-t-il de plus que Tom dans sa poche ?

Iram a 7 bonbons dans sa poche. Tom a 2 bonbons dans sa poche. Combien de bonbons Iram a-t-il de plus que Tom dans sa poche ?

Iram a 7 bonbons dans sa poche. Tom a 2 bonbons dans sa poche. Combien de bonbons Iram a-t-il de plus que Tom dans sa poche ?

Iram a 7 bonbons dans sa poche. Tom a 2 bonbons dans sa poche. Combien de bonbons Iram a-t-il de plus que Tom dans sa poche ?

Iram a 7 bonbons dans sa poche. Tom a 2 bonbons dans sa poche. Combien de bonbons Iram a-t-il de plus que Tom dans sa poche ?

Iram a 7 bonbons dans sa poche. Tom a 2 bonbons dans sa poche. Combien de bonbons Iram a-t-il de plus que Tom dans sa poche ?

Iram a 7 bonbons dans sa poche. Tom a 2 bonbons dans sa poche. Combien de bonbons Iram a-t-il de plus que Tom dans sa poche ?

Iram a 7 bonbons dans sa poche. Tom a 2 bonbons dans sa poche. Combien de bonbons Iram a-t-il de plus que Tom dans sa poche ?

Iram a 7 bonbons dans sa poche. Tom a 2 bonbons dans sa poche. Combien de bonbons Iram a-t-il de plus que Tom dans sa poche ?



Iram hat 7 Bonbons in ihrer Tasche.
Tom hat 2 Bonbons in seiner Tasche.
Iram hat mehr Bonbons als Tom in ihrer Tasche.
Wie viele Bonbons mehr?

Iram hat 7 Bonbons in ihrer Tasche.
Tom hat 2 Bonbons in seiner Tasche.
Iram hat mehr Bonbons als Tom in ihrer Tasche.
Wie viele Bonbons mehr?

Iram hat 7 Bonbons in ihrer Tasche.
Tom hat 2 Bonbons in seiner Tasche.
Iram hat mehr Bonbons als Tom in ihrer Tasche.
Wie viele Bonbons mehr?

Iram hat 7 Bonbons in ihrer Tasche.
Tom hat 2 Bonbons in seiner Tasche.
Iram hat mehr Bonbons als Tom in ihrer Tasche.
Wie viele Bonbons mehr?

Iram hat 7 Bonbons in ihrer Tasche.
Tom hat 2 Bonbons in seiner Tasche.
Iram hat mehr Bonbons als Tom in ihrer Tasche.
Wie viele Bonbons mehr?

Iram hat 7 Bonbons in ihrer Tasche.
Tom hat 2 Bonbons in seiner Tasche.
Iram hat mehr Bonbons als Tom in ihrer Tasche.
Wie viele Bonbons mehr?

Iram hat 7 Bonbons in ihrer Tasche.
Tom hat 2 Bonbons in seiner Tasche.
Iram hat mehr Bonbons als Tom in ihrer Tasche.
Wie viele Bonbons mehr?

Iram hat 7 Bonbons in ihrer Tasche.
Tom hat 2 Bonbons in seiner Tasche.
Iram hat mehr Bonbons als Tom in ihrer Tasche.
Wie viele Bonbons mehr?

Iram hat 7 Bonbons in ihrer Tasche.
Tom hat 2 Bonbons in seiner Tasche.
Iram hat mehr Bonbons als Tom in ihrer Tasche.
Wie viele Bonbons mehr?

Iram hat 7 Bonbons in ihrer Tasche.
Tom hat 2 Bonbons in seiner Tasche.
Iram hat mehr Bonbons als Tom in ihrer Tasche.
Wie viele Bonbons mehr?

Iram hat 7 Bonbons in ihrer Tasche.
Tom hat 2 Bonbons in seiner Tasche.
Iram hat mehr Bonbons als Tom in ihrer Tasche.
Wie viele Bonbons mehr?

Iram hat 7 Bonbons in ihrer Tasche.
Tom hat 2 Bonbons in seiner Tasche.
Iram hat mehr Bonbons als Tom in ihrer Tasche.
Wie viele Bonbons mehr?



Lucas et Samuel jouent avec des Kaplas. Samuel fait une construction avec 8 Kaplas. Lucas utilise 3 Kaplas. Samuel a utilisé ____ Kaplas de plus que Lucas.

Lucas et Samuel jouent avec des Kaplas. Samuel fait une construction avec 8 Kaplas. Lucas utilise 3 Kaplas. Samuel a utilisé ____ Kaplas de plus que Lucas.

Lucas et Samuel jouent avec des Kaplas. Samuel fait une construction avec 8 Kaplas. Lucas utilise 3 Kaplas. Samuel a utilisé ____ Kaplas de plus que Lucas.

Lucas et Samuel jouent avec des Kaplas. Samuel fait une construction avec 8 Kaplas. Lucas utilise 3 Kaplas. Samuel a utilisé ____ Kaplas de plus que Lucas.

Lucas et Samuel jouent avec des Kaplas. Samuel fait une construction avec 8 Kaplas. Lucas utilise 3 Kaplas. Samuel a utilisé ____ Kaplas de plus que Lucas.

Lucas et Samuel jouent avec des Kaplas. Samuel fait une construction avec 8 Kaplas. Lucas utilise 3 Kaplas. Samuel a utilisé ____ Kaplas de plus que Lucas.

Lucas et Samuel jouent avec des Kaplas. Samuel fait une construction avec 8 Kaplas. Lucas utilise 3 Kaplas. Samuel a utilisé ____ Kaplas de plus que Lucas.

Lucas et Samuel jouent avec des Kaplas. Samuel fait une construction avec 8 Kaplas. Lucas utilise 3 Kaplas. Samuel a utilisé ____ Kaplas de plus que Lucas.

Lucas et Samuel jouent avec des Kaplas. Samuel fait une construction avec 8 Kaplas. Lucas utilise 3 Kaplas. Samuel a utilisé ____ Kaplas de plus que Lucas.

Lucas et Samuel jouent avec des Kaplas. Samuel fait une construction avec 8 Kaplas. Lucas utilise 3 Kaplas. Samuel a utilisé ____ Kaplas de plus que Lucas.

Lucas et Samuel jouent avec des Kaplas. Samuel fait une construction avec 8 Kaplas. Lucas utilise 3 Kaplas. Samuel a utilisé ____ Kaplas de plus que Lucas.

Lucas et Samuel jouent avec des Kaplas. Samuel fait une construction avec 8 Kaplas. Lucas utilise 3 Kaplas. Samuel a utilisé ____ Kaplas de plus que Lucas.



Lucas und Samuel spielen mit Kapla?
Samuel spielt mit 8 Kapla.
Lucas spielt mit 3 Kapla.
Samuel spielt mit ____
Kapla mehr als Lucas.

Lucas und Samuel spielen mit Kapla?
Samuel spielt mit 8 Kapla.
Lucas spielt mit 3 Kapla.
Samuel spielt mit ____
Kapla mehr als Lucas.

Lucas und Samuel spielen mit Kapla?
Samuel spielt mit 8 Kapla.
Lucas spielt mit 3 Kapla.
Samuel spielt mit ____
Kapla mehr als Lucas.

Lucas und Samuel spielen mit Kapla?
Samuel spielt mit 8 Kapla.
Lucas spielt mit 3 Kapla.
Samuel spielt mit ____
Kapla mehr als Lucas.

Lucas und Samuel spielen mit Kapla?
Samuel spielt mit 8 Kapla.
Lucas spielt mit 3 Kapla.
Samuel spielt mit ____
Kapla mehr als Lucas.

Lucas und Samuel spielen mit Kapla?
Samuel spielt mit 8 Kapla.
Lucas spielt mit 3 Kapla.
Samuel spielt mit ____
Kapla mehr als Lucas.

Lucas und Samuel spielen mit Kapla?
Samuel spielt mit 8 Kapla.
Lucas spielt mit 3 Kapla.
Samuel spielt mit ____
Kapla mehr als Lucas.

Lucas und Samuel spielen mit Kapla?
Samuel spielt mit 8 Kapla.
Lucas spielt mit 3 Kapla.
Samuel spielt mit ____
Kapla mehr als Lucas.

Lucas und Samuel spielen mit Kapla?
Samuel spielt mit 8 Kapla.
Lucas spielt mit 3 Kapla.
Samuel spielt mit ____
Kapla mehr als Lucas.

Lucas und Samuel spielen mit Kapla?
Samuel spielt mit 8 Kapla.
Lucas spielt mit 3 Kapla.
Samuel spielt mit ____
Kapla mehr als Lucas.

Lucas und Samuel spielen mit Kapla?
Samuel spielt mit 8 Kapla.
Lucas spielt mit 3 Kapla.
Samuel spielt mit ____
Kapla mehr als Lucas.

Lucas und Samuel spielen mit Kapla?
Samuel spielt mit 8 Kapla.
Lucas spielt mit 3 Kapla.
Samuel spielt mit ____
Kapla mehr als Lucas.



Riad construit une tour de 9 Kaplas.
Amina en construit une qui a 6 Kaplas.
Qui a la tour la plus grande ?
De combien de Kaplas cette construction est-elle plus grande ?

Riad construit une tour de 9 Kaplas.
Amina en construit une qui a 6 Kaplas.
Qui a la tour la plus grande ?
De combien de Kaplas cette construction est-elle plus grande ?

Riad construit une tour de 9 Kaplas.
Amina en construit une qui a 6 Kaplas.
Qui a la tour la plus grande ?
De combien de Kaplas cette construction est-elle plus grande ?

Riad construit une tour de 9 Kaplas.
Amina en construit une qui a 6 Kaplas.
Qui a la tour la plus grande ?
De combien de Kaplas cette construction est-elle plus grande ?

Riad construit une tour de 9 Kaplas.
Amina en construit une qui a 6 Kaplas.
Qui a la tour la plus grande ?
De combien de Kaplas cette construction est-elle plus grande ?

Riad construit une tour de 9 Kaplas.
Amina en construit une qui a 6 Kaplas.
Qui a la tour la plus grande ?
De combien de Kaplas cette construction est-elle plus grande ?

Riad construit une tour de 9 Kaplas.
Amina en construit une qui a 6 Kaplas.
Qui a la tour la plus grande ?
De combien de Kaplas cette construction est-elle plus grande ?

Riad construit une tour de 9 Kaplas.
Amina en construit une qui a 6 Kaplas.
Qui a la tour la plus grande ?
De combien de Kaplas cette construction est-elle plus grande ?

Riad construit une tour de 9 Kaplas.
Amina en construit une qui a 6 Kaplas.
Qui a la tour la plus grande ?
De combien de Kaplas cette construction est-elle plus grande ?

Riad construit une tour de 9 Kaplas.
Amina en construit une qui a 6 Kaplas.
Qui a la tour la plus grande ?
De combien de Kaplas cette construction est-elle plus grande ?

Riad construit une tour de 9 Kaplas.
Amina en construit une qui a 6 Kaplas.
Qui a la tour la plus grande ?
De combien de Kaplas cette construction est-elle plus grande ?

Riad construit une tour de 9 Kaplas.
Amina en construit une qui a 6 Kaplas.
Qui a la tour la plus grande ?
De combien de Kaplas cette construction est-elle plus grande ?



Riad construit une tour de 5 Kaplas.
Amina en construit une qui a 3 Kaplas.
Qui a la tour la plus grande ?
De combien de Kaplas cette construction est-elle plus grande ?

Riad construit une tour de 5 Kaplas.
Amina en construit une qui a 3 Kaplas.
Qui a la tour la plus grande ?
De combien de Kaplas cette construction est-elle plus grande ?

Riad construit une tour de 5 Kaplas.
Amina en construit une qui a 3 Kaplas.
Qui a la tour la plus grande ?
De combien de Kaplas cette construction est-elle plus grande ?

Riad construit une tour de 5 Kaplas.
Amina en construit une qui a 3 Kaplas.
Qui a la tour la plus grande ?
De combien de Kaplas cette construction est-elle plus grande ?

Riad construit une tour de 5 Kaplas.
Amina en construit une qui a 3 Kaplas.
Qui a la tour la plus grande ?
De combien de Kaplas cette construction est-elle plus grande ?

Riad construit une tour de 5 Kaplas.
Amina en construit une qui a 3 Kaplas.
Qui a la tour la plus grande ?
De combien de Kaplas cette construction est-elle plus grande ?

Riad construit une tour de 5 Kaplas.
Amina en construit une qui a 3 Kaplas.
Qui a la tour la plus grande ?
De combien de Kaplas cette construction est-elle plus grande ?

Riad construit une tour de 5 Kaplas.
Amina en construit une qui a 3 Kaplas.
Qui a la tour la plus grande ?
De combien de Kaplas cette construction est-elle plus grande ?

Riad construit une tour de 5 Kaplas.
Amina en construit une qui a 3 Kaplas.
Qui a la tour la plus grande ?
De combien de Kaplas cette construction est-elle plus grande ?

Riad construit une tour de 5 Kaplas.
Amina en construit une qui a 3 Kaplas.
Qui a la tour la plus grande ?
De combien de Kaplas cette construction est-elle plus grande ?

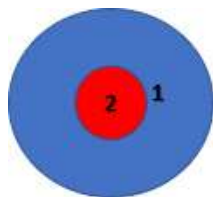
Riad construit une tour de 5 Kaplas.
Amina en construit une qui a 3 Kaplas.
Qui a la tour la plus grande ?
De combien de Kaplas cette construction est-elle plus grande ?

Riad construit une tour de 5 Kaplas.
Amina en construit une qui a 3 Kaplas.
Qui a la tour la plus grande ?
De combien de Kaplas cette construction est-elle plus grande ?



Jeu du palet

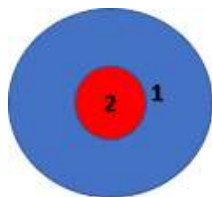
- un palet dans la zone bleue fait 1 point,
- un palet dans la zone rouge fait 2 points.
Zélia lance 3 palets dans la cible et gagne 4 points.



Où sont placés ses palets ?

Jeu du palet

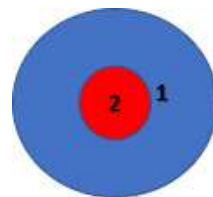
- un palet dans la zone bleue fait 1 point,
- un palet dans la zone rouge fait 2 points.
Zélia lance 3 palets dans la cible et gagne 4 points.



Où sont placés ses palets ?

Jeu du palet

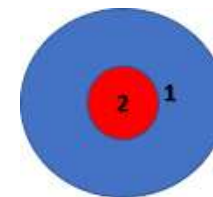
- un palet dans la zone bleue fait 1 point,
- un palet dans la zone rouge fait 2 points.
Zélia lance 3 palets dans la cible et gagne 4 points.



Où sont placés ses palets ?

Jeu du palet

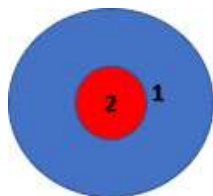
- un palet dans la zone bleue fait 1 point,
- un palet dans la zone rouge fait 2 points.
Zélia lance 3 palets dans la cible et gagne 4 points.



Où sont placés ses palets ?

Jeu du palet

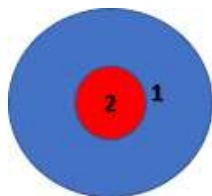
- un palet dans la zone bleue fait 1 point,
- un palet dans la zone rouge fait 2 points.
Zélia lance 3 palets dans la cible et gagne 4 points.



Où sont placés ses palets ?

Jeu du palet

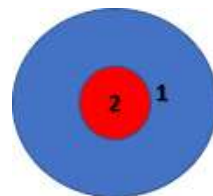
- un palet dans la zone bleue fait 1 point,
- un palet dans la zone rouge fait 2 points.
Zélia lance 3 palets dans la cible et gagne 4 points.



Où sont placés ses palets ?

Jeu du palet

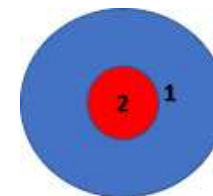
- un palet dans la zone bleue fait 1 point,
- un palet dans la zone rouge fait 2 points.
Zélia lance 3 palets dans la cible et gagne 4 points.



Où sont placés ses palets ?

Jeu du palet

- un palet dans la zone bleue fait 1 point,
- un palet dans la zone rouge fait 2 points.
Zélia lance 3 palets dans la cible et gagne 4 points.



Où sont placés ses palets ?